

① 午後

令和6年測量士試験解答用紙集

試験地		受験 番号		氏名	
-----	--	----------	--	----	--

(注意) 試験地, 受験番号, 氏名を必ず記入してください。

選んだ問題2題の該当番号を○で囲んでください。

選択表	No. 2	No. 3	No. 4	No. 5
-----	-------	-------	-------	-------

(注意) ○の記入が無い問題は解答があっても無効になります。
また, 3題以上に○を記入した場合は全ての解答が無効になります。

試験開始時刻前に, 開いてはいけません。

① 午後

令和6年測量士試験解答用紙集

解答欄

必須 [No. 1]

問A

ア	
イ	
ウ	
エ	
オ	
カ	
キ	
ク	
ケ	
コ	
サ	

〈次のページに続く〉

問 B

問 B-1

ア	
イ	
ウ	
エ	
オ	
カ	

〈次のページに続く〉

問 B-2

記号	正しいものには○, 間違っているものには×	正しい内容
a		
b		
c		
d		

〈次のページに続く〉

問 B-3

問 B-4

〈次のページに続く〉

問 C

問 C-1

ア	
イ	
ウ	
エ	
オ	
カ	
キ	

問 C-2

問 C-3

〈次のページに続く〉

問 C-4

ク	
ケ	
コ	

問 C-5

a	
b	

〈次のページに続く〉

問 D

問 D-1

問 D-2

問 D-3

a	
b	
c	
d	
e	

問 D-4

① 午後

令和 6 年測量士試験解答用紙集

解答欄

選択〔No. 2〕

問 A

問 A-1

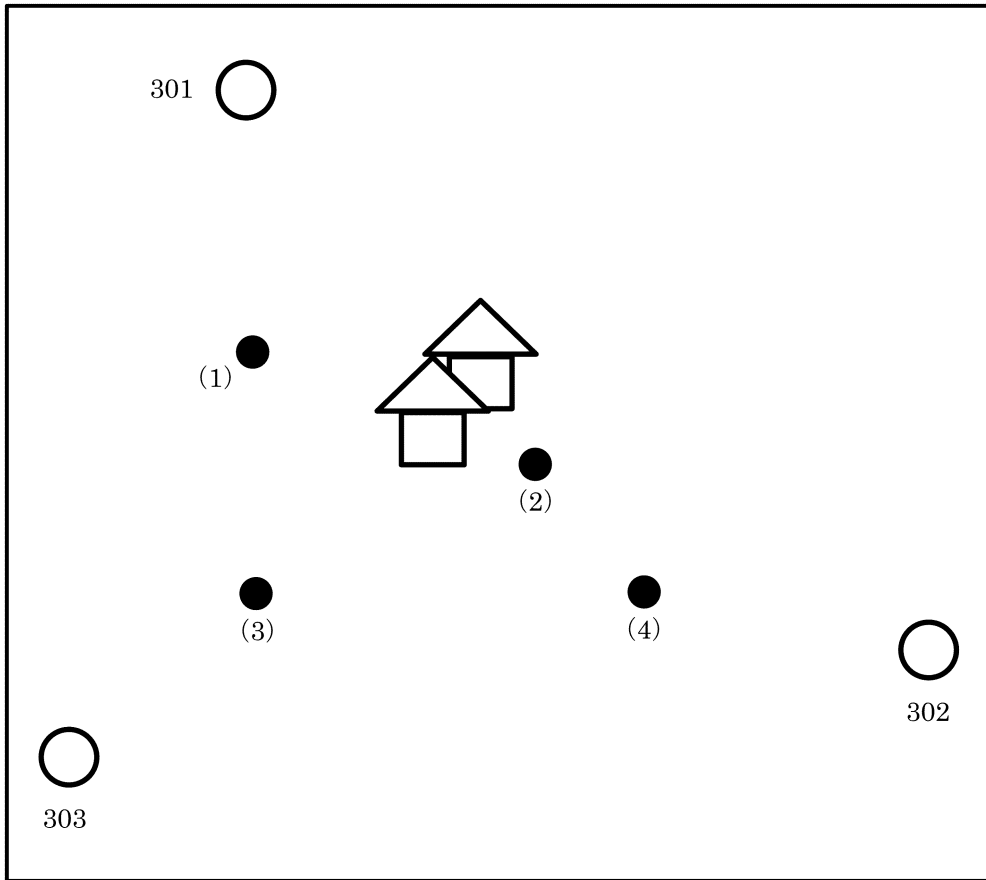
ア	
イ	
ウ	
エ	
オ	
カ	

問 A-2


〈次のページに続く〉

問 B

問 B-1



問 B-2



〈次のページに続く〉

問 B-3

問 B-4

--

〈次のページに続く〉

問 C

問 C-1

ア	
イ	
ウ	
エ	
オ	

問 C-2

カ	$X =$	m
キ	$Y =$	m
ク	$\Delta X =$	m
ケ	$\Delta Y =$	m

問 C-3

1年当たりの地殻変動量
mm

許容範囲を超えるまでに掛かる年数
年

〈次のページに続く〉

問 D

問 D-1

読み取り順序	
1	
2	
3	
4	

読定単位
mm

問 D-2

〈次のページに続く〉

問 D-3

問 D-4

問 D-5

地	盤	沈	下	調	査	の	観	点	か	ら	,			

問 B

問 B-1

ア	
イ	
ウ	
エ	
オ	

問 B-2

a	
b	
c	

問 B-3

最近隣法

m

TIN

m

〈次のページに続く〉

問 C

問 C-1

m

問 C-2

秒

問 C-3

コース

問 C-4

ギガバイト

問 C-5

--

〈次のページに続く〉

問 D

問 D-1

m

問 D-2

每秒 往復
--

問 D-3

每秒 ,000 回
--

問 D-4

(Grid area for question D-4)

① 午後

令和6年測量士試験解答用紙集

解答欄

選択〔No. 4〕

問A

問A-1

	枚
--	---

問A-2

	X 座標 (m)	Y 座標 (m)
点 B を含む左下隅		
点 I を含む左下隅		

問A-3

X 軸方向	cm
Y 軸方向	cm

問A-4

〈次のページに続く〉

問 B

問 B-1

番号	正しいものには○, 間違っているものには×	正しい内容
1		
2		
3		
4		
5		

問 B-2

秒

問 B-3

ア	
イ	
ウ	
エ	

問 B-4

〈次のページに続く〉

問 C

問 C-1

ア	
イ	
ウ	
エ	
オ	
カ	

問 C-2

キ	
ク	
ケ	
コ	
サ	
シ	
ス	

〈次のページに続く〉

問 D

問 D-1

ア	
イ	
ウ	

問 D-2

エ	
オ	
カ	
キ	
ク	

〈次のページに続く〉

問D-3

番号	正しいものには○, 間違っているものには×	正しい内容
1		
2		
3		
4		
5		

① 午後

令和6年測量士試験解答用紙集

解答欄

選択〔No. 5〕

問A

問A-1

ア	
イ	
ウ	
エ	
オ	
カ	

問A-2

キ	
ク	
ケ	
コ	

〈次のページに続く〉

問 A-3

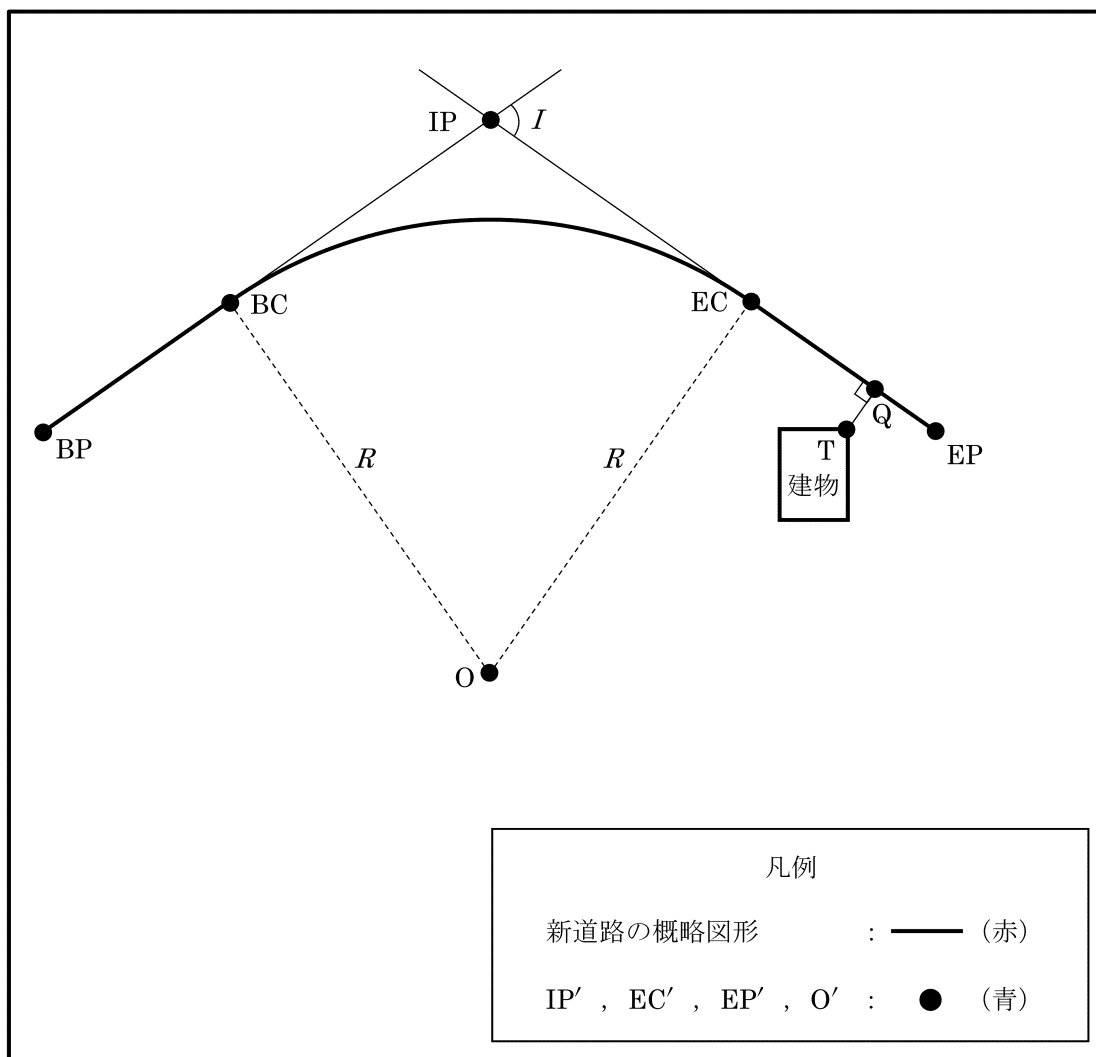
記号	正しいものには○, 間違っているものには×	間違っている場合の 正しい語句
j		
k		
l		

問 A-4

〈次のページに続く〉

問 B

問 B-1 及び問 B-2



問 B-1

直線 BC ~ IP'	m
-------------	---

問 B-3

新道路の円曲線の曲線半径 R'	m
新道路の円曲線部分 BC ~ EC'	m

〈次のページに続く〉

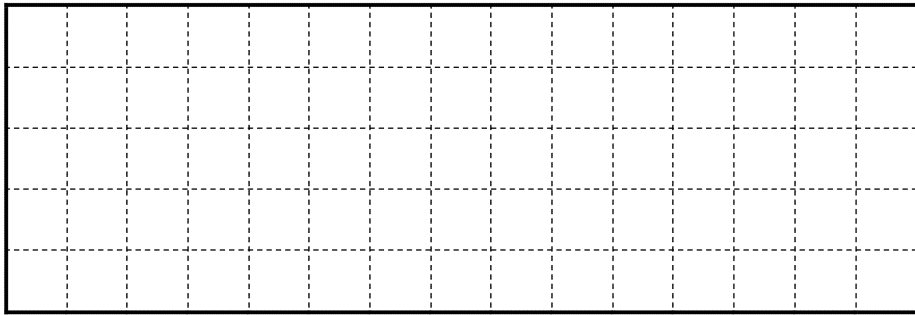
問 C-3

中 心 杭	本
用 地 幅 杭	本
用地境界仮杭	本

〈次のページに続く〉

問 D

問 D-1



問 D-2 及び問 D-3

