

① 午後

令和5年測量士試験解答用紙集

受験地		受験 番号		氏名	
-----	--	----------	--	----	--

(注意) 受験地, 受験番号, 氏名を必ず記入してください。

選んだ問題2題の該当番号を○で囲んでください。

選択表	No. 2	No. 3	No. 4	No. 5
-----	-------	-------	-------	-------

(注意) ○の記入が無い問題は解答があっても無効になります。
また, 3題以上に○を記入した場合は全ての解答が無効になります。

試験開始時刻前に, 開いてはいけません。

① 午後

令和 5 年測量士試験解答用紙集

解答欄

必須 [No. 1]

問 A

ア	
イ	
ウ	
エ	
オ	
カ	
キ	
ク	
ケ	

〈次のページに続く〉

問 B

問 B-1

ア	
イ	
ウ	
エ	
オ	
カ	

〈次のページに続く〉

問 B-3

f	
g	
h	
i	
j	

問 B-4

〈次のページに続く〉

問 C-3

問 C-4

コ	
サ	
シ	
ス	
セ	
ソ	
タ	

〈次のページに続く〉

問 D

問 D-1

ア	
イ	
ウ	
エ	
オ	

問 D-2

カ	
キ	
ク	
ケ	

問 D-3

問 D-4

コ	
サ	
シ	
ス	

士 午後

令和 5 年測量士試験解答用紙集

解答欄

選択 [No. 2]

問 A

問 A-1

ア	
イ	
ウ	
エ	
オ	
カ	
キ	
ク	
ケ	
コ	
サ	
シ	
ス	
セ	

〈次のページに続く〉

問 A-2

A grid for drawing with a triangle. The grid is 12 columns wide and 5 rows high. A solid line is drawn from the bottom-left corner of the 4th column to the bottom-right corner of the 12th column.

問 A-3

A blank grid for drawing, consisting of 12 columns and 5 rows.

問 A-4

作業工程 順 序	作成すべき成果等
2	
3	
5	

〈次のページに続く〉

問 B

問 B-1

問 B-2

ア	
イ	
ウ	
エ	
オ	

〈次のページに続く〉

問 B-3

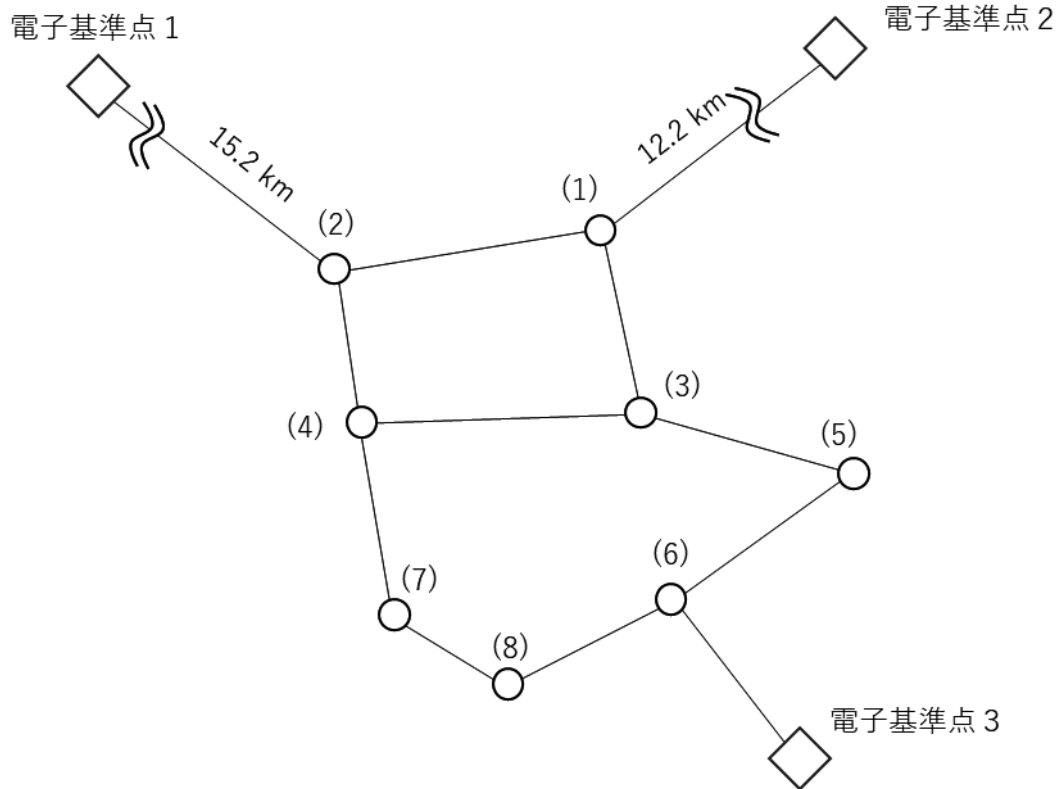
カ	
キ	

ク	
ケ	
コ	

〈次のページに続く〉

問 C

問 C-1 及び問 C-2



〈次のページに続く〉

問 D

問 D-1

$V_{ST} =$
$V_{UT} =$
$V_{GU} =$

問 D-2

ア	
イ	
ウ	
エ	
オ	
カ	
キ	
ク	
ケ	
コ	
サ	

問 D-3

変動が最も大きい水準点	
改定前の標高と最確値の差の絶対値	mm

士 午後

令和 5 年測量士試験解答用紙集

解答欄

選択 [No. 3]

問 A

問 A-1

ア	
イ	
ウ	

問 A-2

番号	適否	適さない理由
(1)		
(2)		

問 A-3

H'	m
------	---

ΔH	m
------------	---

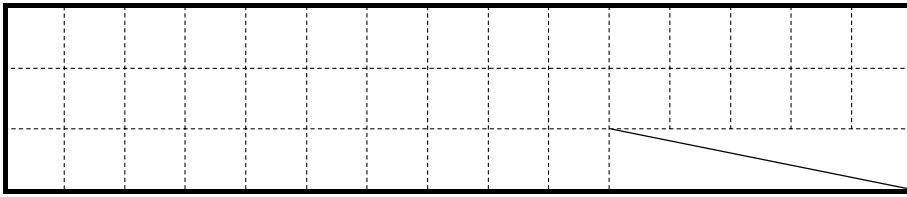
問 A-4

m

〈次のページに続く〉

問 C

問 C-1



問 C-2

m

問 C-3

コース

問 C-4

枚

〈次のページに続く〉

問 D

問 D-1

ア	
イ	
ウ	

問 D-2

エ	
オ	
カ	
キ	平たんな ・ 急峻な

〈次のページに続く〉

問 D-3

上流側

9	10	12	6	6	6	6	6	12	11	9	9	9	9	9
9	10	12	6	6	6	6	6	12	11	10	9	9	9	10
9	10	12	6	6	6	6	6	12	11	10	11	11	11	9
9	10	12	6	6	6	6	6	12	12	11	10	10	10	10
9	10	11	11	6	6	6	6	6	6	11	10	9	8	10
8	9	9	11	11	11	6	6	6	6	11	9	9	8	11
8	8	8	9	11	11	6	6	6	6	11	9	9	8	11
7	7	8	10	11	6	6	6	6	6	11	9	8	8	11
7	7	10	11	6	6	6	6	6	11	11	8	8	8	10
10	11	11	6	6	6	6	6	11	11	10	8	9	10	11
11	6	6	6	6	6	11	11	10	10	8	8	9	10	10
6	6	6	6	6	11	11	10	10	9	8	8	9	10	9
6	6	6	6	6	11	11	10	9	9	8	9	9	10	8
6	6	6	6	10	10	10	8	8	8	8	10	10	10	7
6	6	6	6	10	7	10	10	10	10	10	10	7	7	7

下流側

凡例：水部



問 D-4

m^3

④ 午後

令和5年測量士試験解答用紙集

解答欄

選択 [No. 4]

問A

問A-1



枚

〈次のページに続く〉

問 A-2

	X座標 (m)	Y座標 (m)
点Aを含む左下隅		
点Iを含む左下隅		

問 A-3

1 /

〈次のページに続く〉

問 B

問 B-1

ア	
イ	
ウ	
エ	
オ	

問 B-2

問 B-3

(A-B 間の経度差)

(C-D 間の経度差)

〈次のページに続く〉

問 B-4

キ	
ク	
ケ	
コ	
サ	

問 B-5

データの提供側	
ユーザ側	

〈次のページに続く〉

問 D

問 D-1

--

〈次のページに続く〉

問 D-2

記号	正しいものには○, 間違っているものには×	図 4-3 に基づく間違いの理由
a		
b		
c		
d		
e		

〈次のページに続く〉

問 D-3

ア	
イ	
ウ	
エ	
オ	

士 午後

令和 5 年測量士試験解答用紙集

解答欄

選択 [No. 5]

問 A

問 A-1

ア	
イ	
ウ	
エ	
オ	
カ	
キ	
ク	
ケ	
コ	

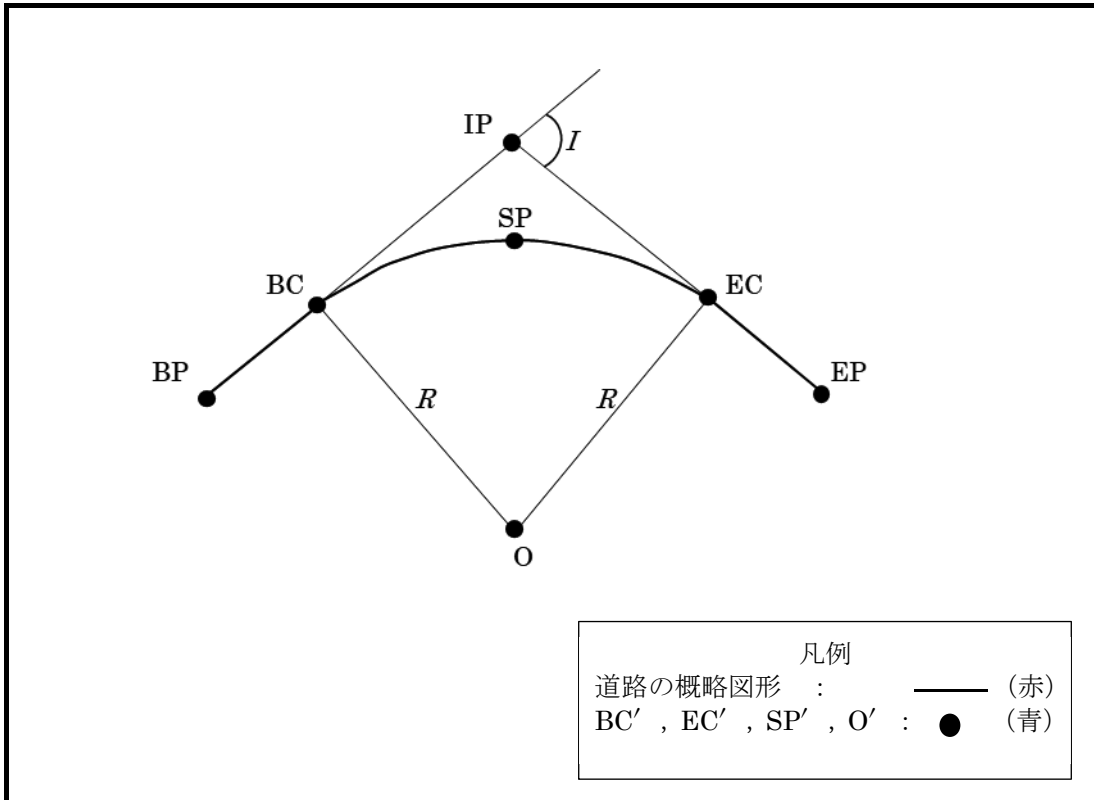
問 A-2

サ	
シ	
ス	

〈次のページに続く〉

問 B

問 B-1



問 B-2

m

問 B-3

m

問 B-4

ア	大きく ・ 小さく
イ	長く ・ 短く
ウ	大きく ・ 小さく

〈次のページに続く〉

問 C

問 C-1

中心杭	本
用地幅杭	本
用地境界仮杭	本

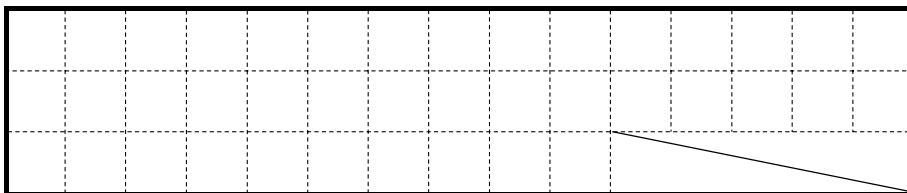
問 C-2

m ²

問 C-3

ア	
イ	
ウ	
エ	
オ	

問 C-4



〈次のページに続く〉

問 D

問 D-1

ア	
イ	
ウ	
エ	
オ	
カ	
キ	
ク	
ケ	
コ	

問 D-2

サ	
シ	
ス	
セ	

〈次のページに続く〉

問 D-3

①水深の測定に用いる主な機器

②測深位置又は船位の測定に用いる主な機器

