

士 午後 令和 4 年測量士試験解答用紙集

受験地		受験番号		氏名	
-----	--	------	--	----	--

(注意) 受験地, 受験番号, 氏名を必ず記入してください。

選んだ問題 2 題の該当番号を○で囲んでください。

選択表	No. 2	No. 3	No. 4	No. 5
-----	-------	-------	-------	-------

(注意) ○の記入が無い問題は解答があっても無効になります。
また, 3 題以上に○を記入した場合は全ての解答が無効になります。

試験開始時刻前に, 開いてはいけません。

士 午後 令和4年測量士試験解答用紙集

解答欄

必須 [No. 1]

問A

ア	
イ	
ウ	
エ	
オ	
カ	
キ	
ク	
ケ	

〈次のページに続く〉

問B

問B - 1

a	
b	
c	
d	

〈次のページに続く〉

問B - 2

記号	正しいものには○, 間違っているものには×	正しい対応									
e											
f											
g											
h											
i											

〈次のページに続く〉

問B - 3

問B - 4

ア	
イ	
ウ	
エ	

〈次のページに続く〉

問C

問C - 1

ア	
イ	
ウ	
エ	
オ	
カ	

問C - 2

〈次のページに続く〉

問C - 3

キ	
ク	
ケ	
コ	
サ	
シ	
ス	
セ	
ソ	
タ	

問C - 4

〈次のページに続く〉

問D

問D - 1

--

問D - 2

問D - 3

ア	
イ	
ウ	
エ	

問D - 4

オ	
カ	
キ	
ク	
ケ	

士 午後 令和 4 年測量士試験解答用紙集

解答欄

選択 [No. 2]

問A

問A - 1

ア	
イ	
ウ	
エ	
オ	
カ	
キ	

問A - 2

〈次のページに続く〉

問A - 3

--

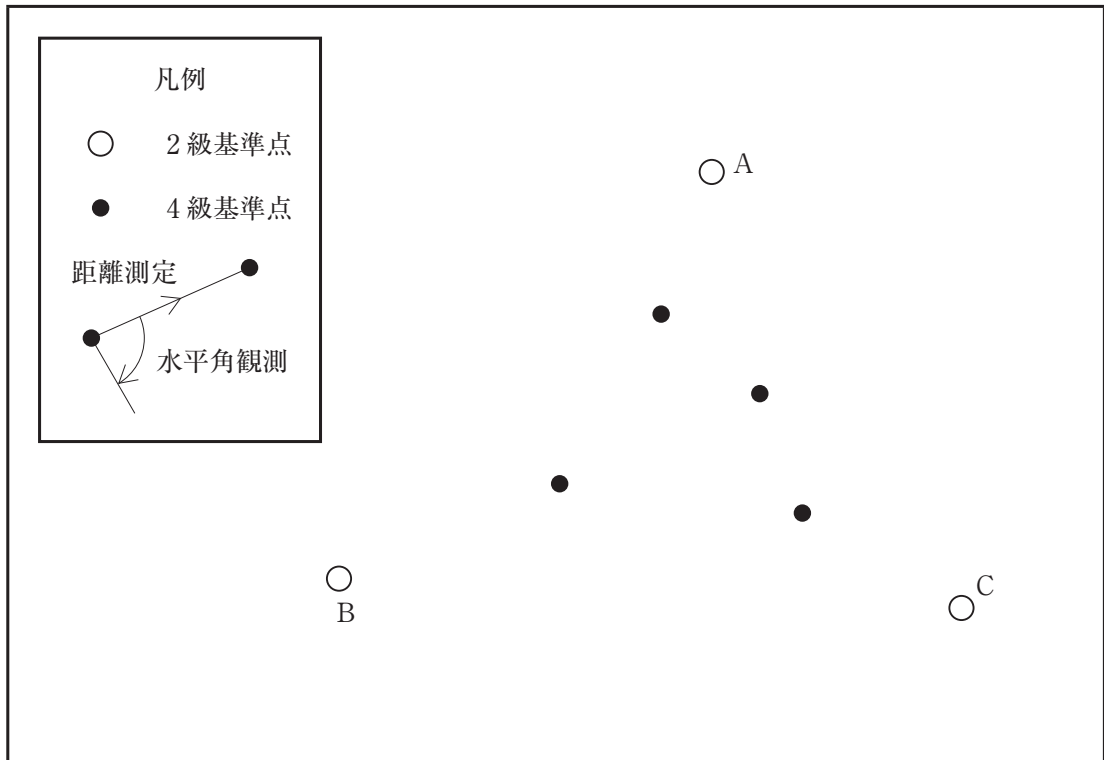
問A - 4

図 名	承認が必要とされる理由

〈次のページに続く〉

問B

問B - 1



問B - 2

〈次のページに続く〉

問C

問C - 1

ア	
イ	
ウ	
エ	
オ	

問C - 2

カ	
キ	
ク	
ケ	
コ	
サ	
シ	
ス	
セ	

〈次のページに続く〉

問D

問D - 1

路線②	$V_{TM} =$
路線③	$V_{UN} =$
路線④	$V_{NM} =$

問D - 2

ア	
イ	
ウ	
エ	
オ	
カ	
キ	
ク	
ケ	
コ	

問D - 3

新点 M の標高の最確値	m
新点 N の標高の最確値	m

① 午後 令和4年測量士試験解答用紙集

解答欄

選択 [No. 3]

問A

問A-1

ア	
イ	
ウ	
エ	
オ	
カ	
キ	

問A-2

--

--

〈次のページに続く〉

問A - 3

ク	
ケ	

問A - 4

〈次のページに続く〉

問B

問B - 1

m

問B - 2

コース

問B - 3

枚

問B - 4

m

〈次のページに続く〉

問C

問C - 1

測線

問C - 2

点


問C - 3

m

問C - 4


m

問C - 5



〈次のページに続く〉

問D - 3



問D - 4

m^2

問D - 5

m^3

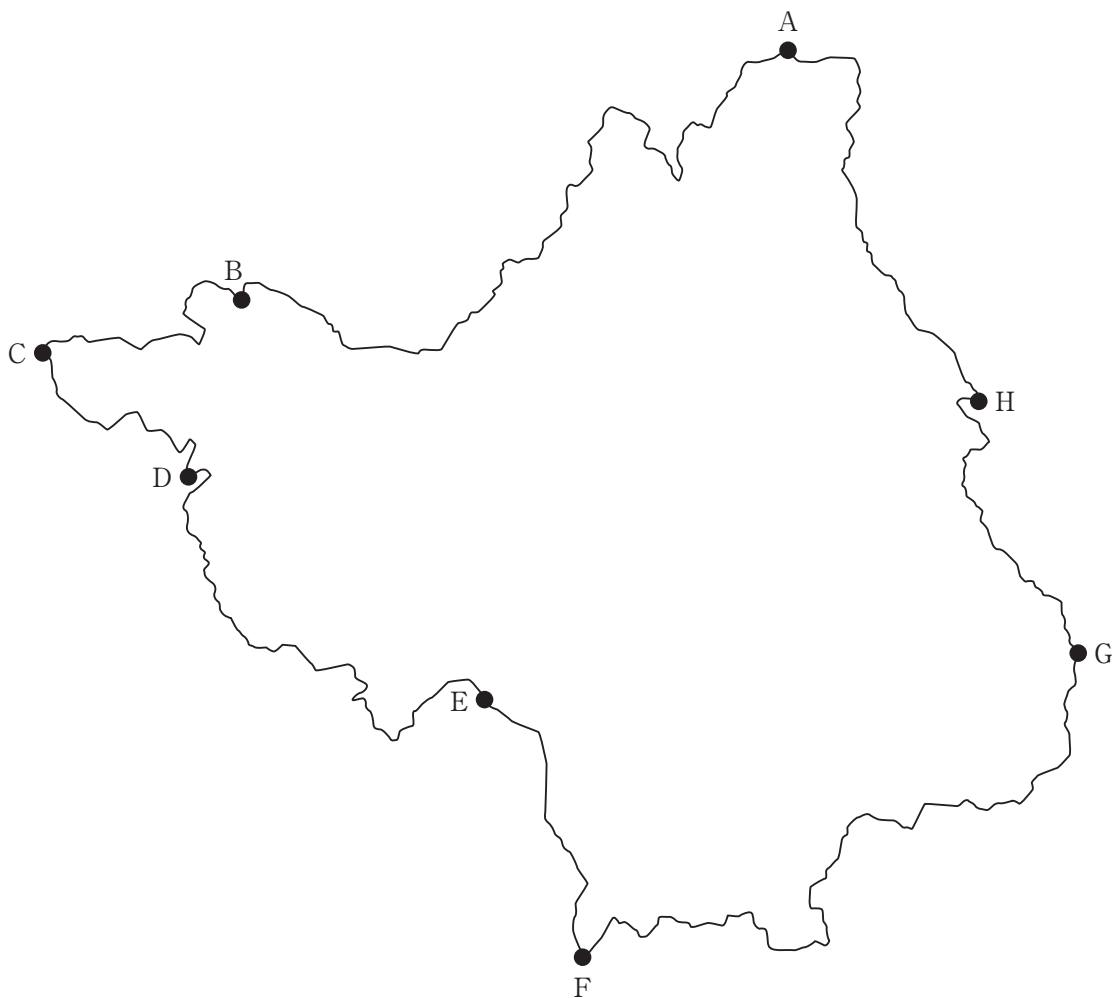
① 午後 令和4年測量士試験解答用紙集

解答欄

選択 [No. 4]

問A

問A-1



枚

〈次のページに続く〉

問A - 2

	X 座標	Y 座標
点 A を含む左下隅		
点 D を含む左下隅		

問A - 3

X 軸方向	cm
Y 軸方向	cm

〈次のページに続く〉

問D

問D - 1

1	
2	
3	
4	
5	

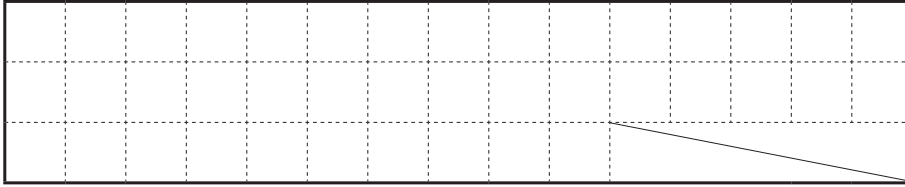
問D - 2

番号	正しいものには○, 間違っているものには×	間違っている理由
1		
2		
3		
4		
5		

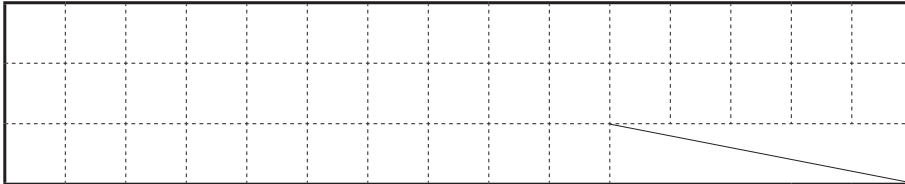
〈次のページに続く〉

問D - 3

直接評価法



間接評価法



問D - 4

ア	
イ	
ウ	
エ	
オ	

士 午後 令和4年測量士試験解答用紙集

解答欄

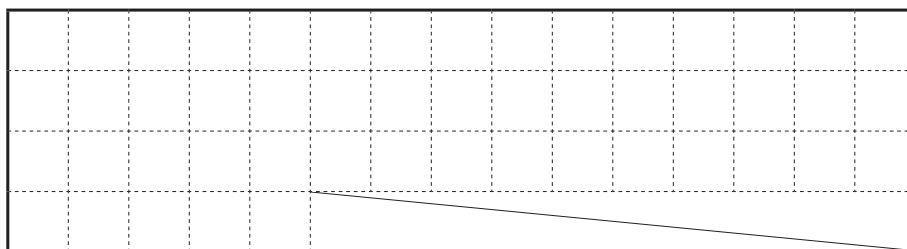
選択 [No. 5]

問A

問A-1

ア	
イ	
ウ	

問A-2



問A-3

〈次のページに続く〉

問A - 4

エ	
オ	
カ	
キ	

問A - 5

〈次のページに続く〉

問B

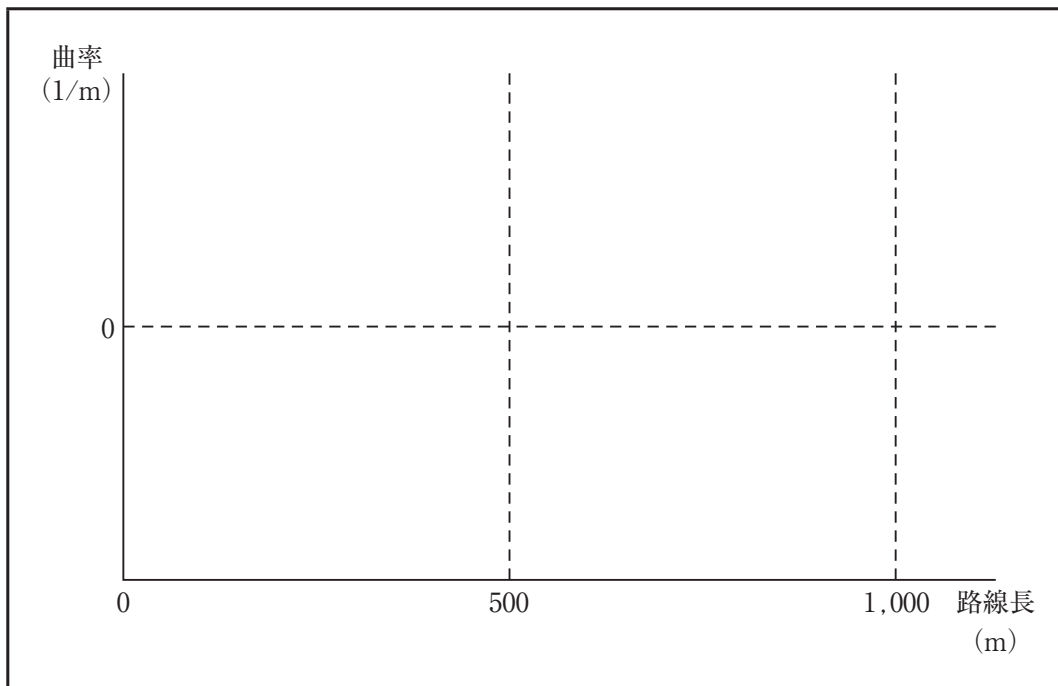
問B - 1

ラジアン

問B - 2

曲線 A ~ B の路線長	m
曲線 B ~ C の路線長	m

問B - 3



〈次のページに続く〉

問C

問C - 1

ア	
イ	
ウ	
エ	
オ	
カ	
キ	

正しい作業順で a ~ d を並べよ

→ → →

〈次のページに続く〉

問C-2

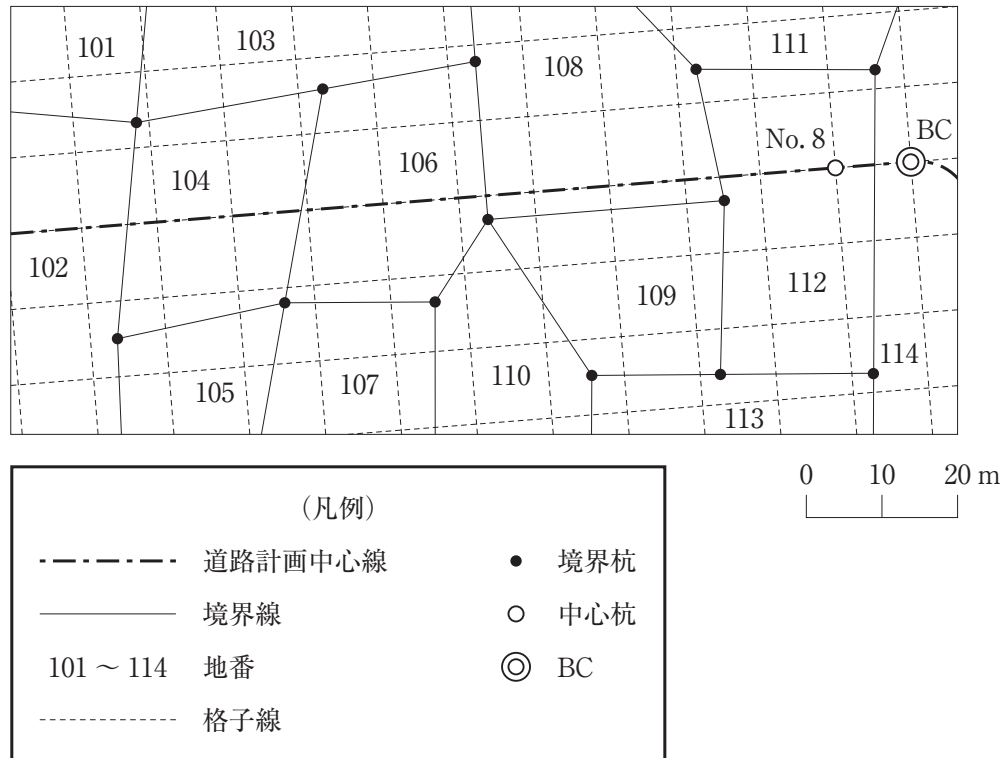




図5-5

問C-3



〈次のページに続く〉


問D

問D - 1


ア	
イ	
ウ	
エ	
オ	

問D - 2

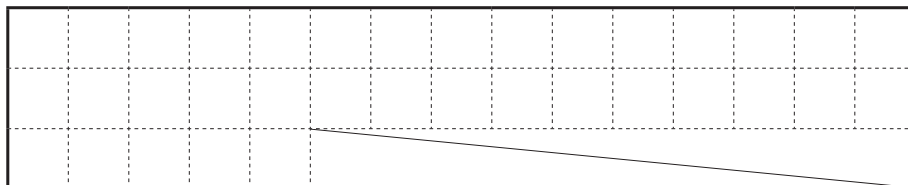
距離標の設置



水準基標の設置



問D - 3



〈次のページに続く〉

問D - 4

カ	m^2
キ	m
ク	m^2
ケ	m
コ	m^2
サ	m
シ	m^2
ス	m

