

① 午後 平成 30 年測量士試験解答用紙集

受験地		受験 番号		氏名	
-----	--	----------	--	----	--

(注意) 受験地, 受験番号, 氏名を必ず記入してください。

---

選んだ問題2題の該当番号を○で囲んでください。

選択表	No. 2	No. 3	No. 4	No. 5
-----	-------	-------	-------	-------

試験開始時刻前に, 開いてはいけません。



① 午後 平成 30 年測量士試験解答用紙集

解答欄

必須〔No. 1〕

問A

ア	
イ	
ウ	
エ	
オ	

〈次のページに続く〉

問B

問B-1

記号	正しいものには ○, 間違っているものには×	正しい対応											
a		<div style="border: 1px dashed gray; width: 100%; height: 100%; position: relative;"> <span style="position: absolute; top: 0; left: 0; right: 0; bottom: 0; border: 1px solid gray;"></span> </div>											
b		<div style="border: 1px dashed gray; width: 100%; height: 100%; position: relative;"> <span style="position: absolute; top: 0; left: 0; right: 0; bottom: 0; border: 1px solid gray;"></span> </div>											
c		<div style="border: 1px dashed gray; width: 100%; height: 100%; position: relative;"> <span style="position: absolute; top: 0; left: 0; right: 0; bottom: 0; border: 1px solid gray;"></span> </div>											
d		<div style="border: 1px dashed gray; width: 100%; height: 100%; position: relative;"> <span style="position: absolute; top: 0; left: 0; right: 0; bottom: 0; border: 1px solid gray;"></span> </div>											
e		<div style="border: 1px dashed gray; width: 100%; height: 100%; position: relative;"> <span style="position: absolute; top: 0; left: 0; right: 0; bottom: 0; border: 1px solid gray;"></span> </div>											

〈次のページに続く〉

問B-2

a	b	c	d	e

問B-3

ア	
イ	

〈次のページに続く〉

問C

問C-1

ア	
イ	
ウ	
エ	
オ	
カ	
キ	
ク	
ケ	
コ	
サ	

問C-2


〈次のページに続く〉

問 C-3


問 C-4

--

--

〈次のページに続く〉





① 午後 平成 30 年測量士試験解答用紙集

解答欄

選択〔No. 2〕

問A

問 A-1

ア	
イ	
ウ	
エ	
オ	
カ	

〈次のページに続く〉

問 A-2


問 A-3

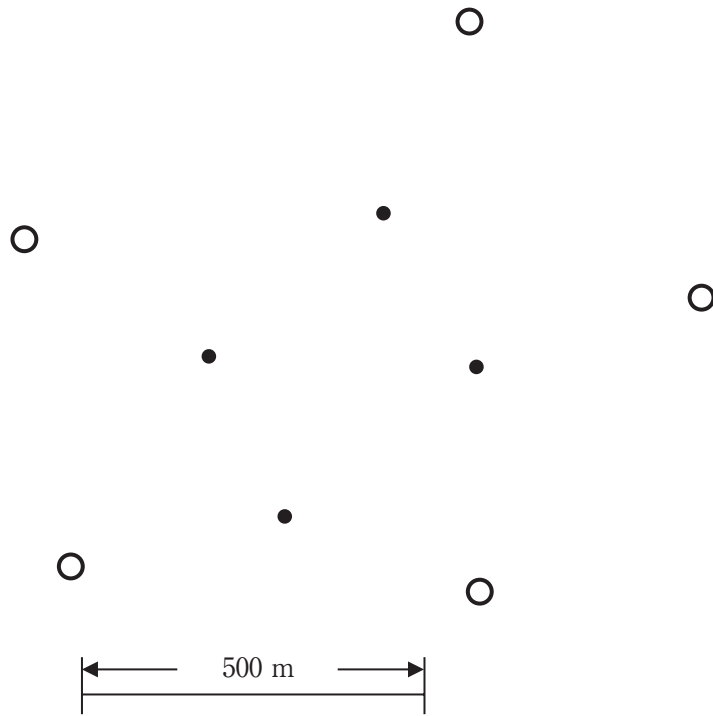
キ	
ク	
ケ	
コ	

〈次のページに続く〉

問B

問B-1


問B-2



〈次のページに続く〉

問 B-3


問 B-4

水平位置の精度の確認項目


標高の精度の確認項目


〈次のページに続く〉

問C

ア	
イ	
ウ	
エ	
オ	
カ	
キ	
ク	
ケ	
コ	
サ	
シ	
ス	
セ	
ソ	

〈次のページに続く〉

問 D

問 D-1

電子レベルに関する項目


標尺に関する項目

--

〈次のページに続く〉

問D-2

再測を行うべき路線番号

選んだ理由





問 A-2

ア	
イ	
ウ	
エ	
オ	
カ	

問 A-3


〈次のページに続く〉

問B

問B-1

km
----

問B-2

m	×	m
---	---	---

問B-3

コース
-----

問B-4

枚
---

問B-5

m
---

〈次のページに続く〉

問C

問C-1

ア	
イ	
ウ	
エ	
オ	

問C-2

カ	
キ	
ク	
ケ	
コ	

問C-3

$m^3$
-------

〈次のページに続く〉

問D

問D-1

--

問D-2

エ	
オ	

問D-3

場所：

--

理由：

--

問D-4

m
---

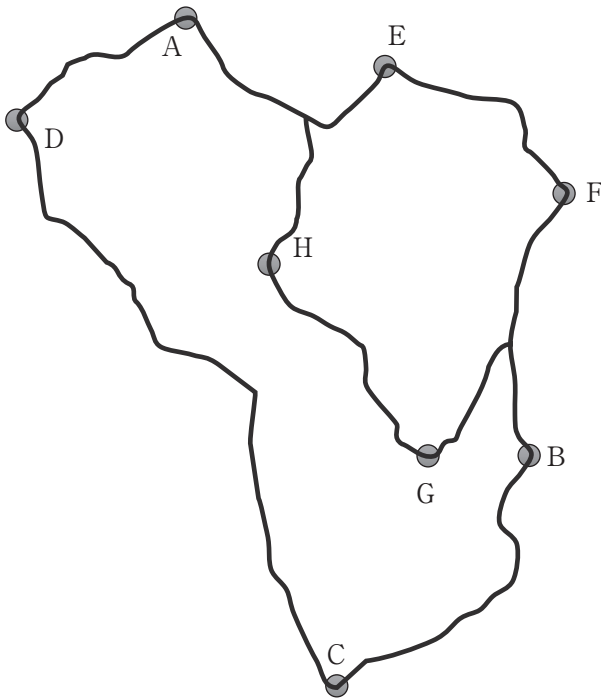
① 午後 平成 30 年測量士試験解答用紙集

解答欄

選択〔No. 4〕

問A

問 A-1



図葉数	
-----	--

問 A-2

点Cが含まれる図葉の左下隅の 平面直角座標系の座標値	X	m	Y	m
点Gが含まれる図葉の左下隅の 平面直角座標系の座標値	X	m	Y	m

問 A-3

市名	管内図の縮尺
S市	1 /
T市	1 /

〈次のページに続く〉

問B

問B-1

ア	
イ	
ウ	
エ	
オ	
カ	
キ	
ク	
ケ	
コ	
サ	

問B-2

番号	正しいものには○, 間違っているものには×	正しい語句
1		
2		
3		

〈次のページに続く〉







問D

問D-1

ア	
イ	
ウ	
エ	

問D-2

オ	
カ	
キ	
ク	
ケ	
コ	
サ	

① 午後 平成 30 年測量士試験解答用紙集

解答欄

選択〔No. 5〕

問A

問 A-1

道路  $P_B \sim P_E$  の路線長


m
---

問 A-2

道路  $P_F \sim P_I$  の路線長

m
---

問 A-3



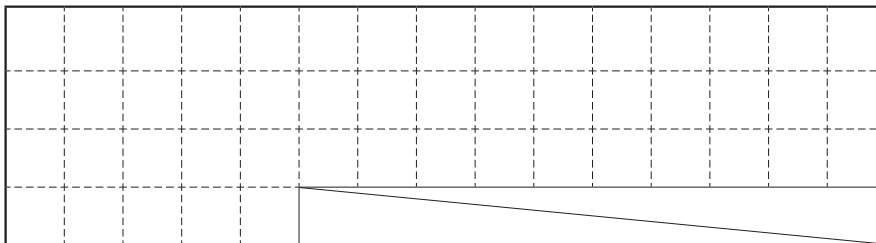
〈次のページに続く〉

問B

問B-1

	測量等の名称	内容
ア		
イ		
ウ		

問B-2



問B-3

番号	正しいものには○, 間違っているものには×	正しい条件
1		
2		
3		

〈次のページに続く〉

問C

問C-1

ア	
イ	
ウ	
エ	
オ	
カ	
キ	
ク	
ケ	

問C-2


問C-3


〈次のページに続く〉

問 C-4

中心杭

	本
--	---

用地幅杭

	本
--	---

用地境界仮杭

	本
--	---

〈次のページに続く〉



